

1



1 €



1 ct



2 €

Das sind Cent.



2 ct



5 €



5 ct



10 €



Das sind Euro.



10 ct




20 €




20 ct


2




3




L



A




D



F

4

Sammele Euro- und Cent-Münzen. Rubbele sie durch.





Tausche die Münzen. Verbinde.



1 ct



2 ct



5 ct



10 ct



20 ct



Wie viel Cent haben die Kinder gelegt?



3 ct



10 ct



5 ct



7 ct



6 ct



8 ct



8 ct



9 ct



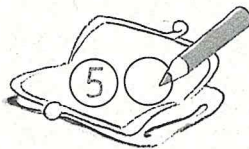
5 ct



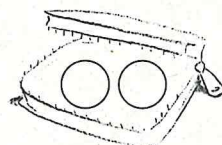
10 ct




Ich nehme 2 von diesen Münzen. Wie viel Cent können es sein?



5 ct



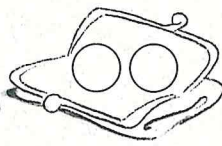
2 ct



1 ct



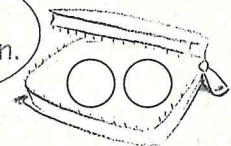
Ich habe am meisten.



2 ct




Ich habe am wenigsten.




1 ct






1	2
12 ct	


1 Wechsle, male und schreibe in die Tabelle.




1	4
_____ ct	



1	5
_____ ct	



1	1
_____ ct	



2	0
_____ ct	

2 Wechsle in 1-Cent-Stücke. Lege und zeichne.

1	4	
1	2	
1	1	
1	5	

3 Legt mit Rechengeld und vergleicht.



12 ct

15 ct

10 ct

18 ct

8 ct

20 ct



1 Wie kannst du den Teddy bezahlen? Lege und zeichne dann.





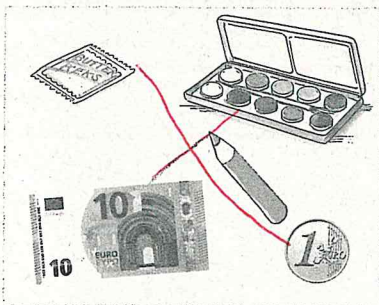
10 €	
10 €	
10 €	

Suche weitere Möglichkeiten.

2

<p>Nina</p> <p>5 €</p>	<p>Benni</p> <p>6 €</p>	<p>Lisa</p> <p>11 €</p>	<p>Lilli</p> <p>14 €</p>	<p>Uli</p> <p>17 €</p>	<p>Kim</p> <p>10 €</p>
------------------------	-------------------------	-------------------------	--------------------------	------------------------	------------------------

3 Wie viel kostet es? Verbinde.

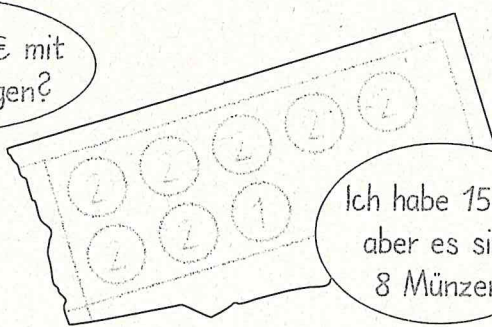


4

zum Knobeln

Probiere Radieren

Kannst du 15 € mit 10 Münzen legen?



Ich habe 15 €, aber es sind 8 Münzen.



Probiere. Schaffst du es?





Ich habe gewechselt.

1	3

13 €

1 Wechsle, male und schreibe in die Tabelle.

		1 8	18 €
		1 4	14 €
		1 5	15 €
		1 0	10 €

2 Wechsle in 1-Euro-Stücke. Lege und zeichne.

1	3	
1	7	
0	9	
1	6	

3 Legt mit Rechengeld und vergleicht.

14 €    11 €    10 €    15 €    20 €    7 €